

3.) Miki Mókus és Cica Mica fejszámoló versenyt rendeztek. A feladatokat és a kisállatok megoldásait itt látod. Ellenőrizd le a számításait! Tegyél mögé ✓, ha helyes a megoldás, húzd alá, ha hibás, és írd a vonalra a helyes eredményt!

Ki nyerte a versenyt?



$6 \cdot 7 - 48 : 8 = 36$ _____

$81 : 9 + 7 \cdot 8 = 65$ _____

$75 : 5 \cdot 3 + 54 : 9 = 42$ _____

$81 - 32 : 4 + (86 - 69) = 90$ _____

$19 + 39 : 3 \cdot 2 - 4 \cdot 7 = 44$ _____


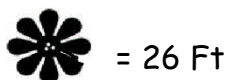
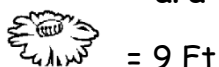
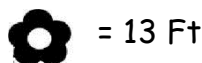
$8 \cdot 8 - 8 \cdot 7 : 4 = 50$ _____

Válasz: _____

7	
---	--

4.) Háromféle tavaszi virágból készítettem ezt a csokrot.

Egy szál virág ára:



Hány forint maradt a százasomból (100Ft)?

9	
---	--

Válasz: _____

5.) Anya a hétvégén zoknikat mosott. A 32 darab zokni negyed része apáé. A maradék fele anyáé, a többi Dórié. Hány pár zoknit mosott anya Dórinak?



6	
---	--

Válasz: _____

